

**Задания для олимпиады «Эколята – молодые защитники природы»
Для обучающихся начальной школы**


1. Вода при нормальных (обычных) условиях состоит из:

- А. Кристаллов
- Б. Молекул
- В. Капель
- Г. Атомов водорода и кислорода
- Д. Атомов воды
- Е. Пузырьков воды

Выберите 2 правильных ответа и вставьте в таблицу соответствующие буквы в таблицу.

Правильные утверждения	
------------------------	--

2. Проанализируйте данные картинки и найдите лишнюю.
Впишите корень слова, который объединяет все остальные слова.



А.



Б.



В.



Г.



Д.



Е.

Лишнее	
Корень	

Вместо картинки Д (аквамарин) вставить этот вариант:



3. Из животных, представленных на фотографиях, выберите **трех**, которые используют поверхностное натяжение воды для своего передвижения. Соответствующие буквы вставьте в таблицу.



А.



Б.



В.



Г.



Д.

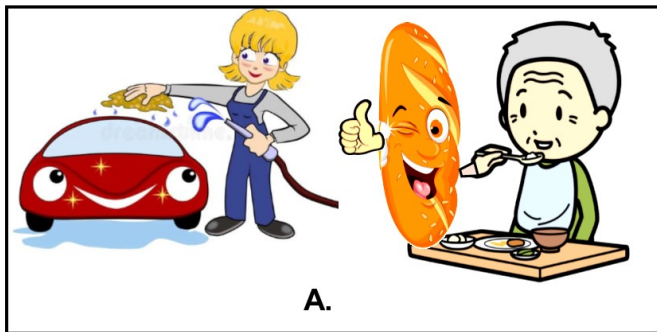


Е.


Используют поверхностное натяжение	
---------------------------------------	--

4. Из представленных ниже пословиц и поговорок про воду выберите те, которые изображены на картинках. Подставьте к буквам в таблице соответствующие числа.


1. Бездонную кадку водой не наполнишь.
2. Вода вымоет, а хлеб выкормит.
3. Вода камень точит.
4. На обиженных воду возят, а на добрых сами катаются.
5. Не зная броду, не суйся в воду.
6. Под лежачий камень вода не течет.
7. Правда в огне не горит и в воде не тонет.
8. Пройти воду, огонь и медные трубы.
9. Хлеб да вода – молодецкая еда
10. Чтобы рыбку съесть, надо в воду лезть.




А.




Б.



В.



Г.



Д.

А.	Б.	В.	Г.	Д.

5. Перед вами список водоемов. Распределите их на две группы: искусственные и естественные. Выберите из них те, какие являются только пресными. Соответствующие цифры внесите в таблицу.


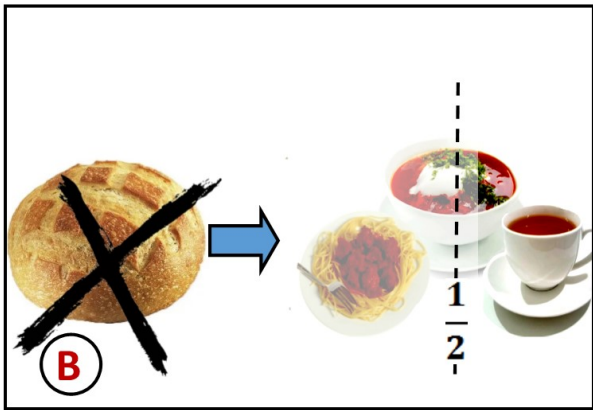


1. Байкал
2. Балтийское море
3. Бассейн
4. Болото
5. Водоохранилище
6. Канал
7. Каспийское море
8. Колодец
9. Лиман
10. Минеральный источник

А. Естественные	
Б. Искусственные	
В. Пресные	

6. Вам хорошо знакомы пословицы и поговорки о хлебе. Попробуйте найти из представленного списка четыре, которые зашифрованы на картинках.

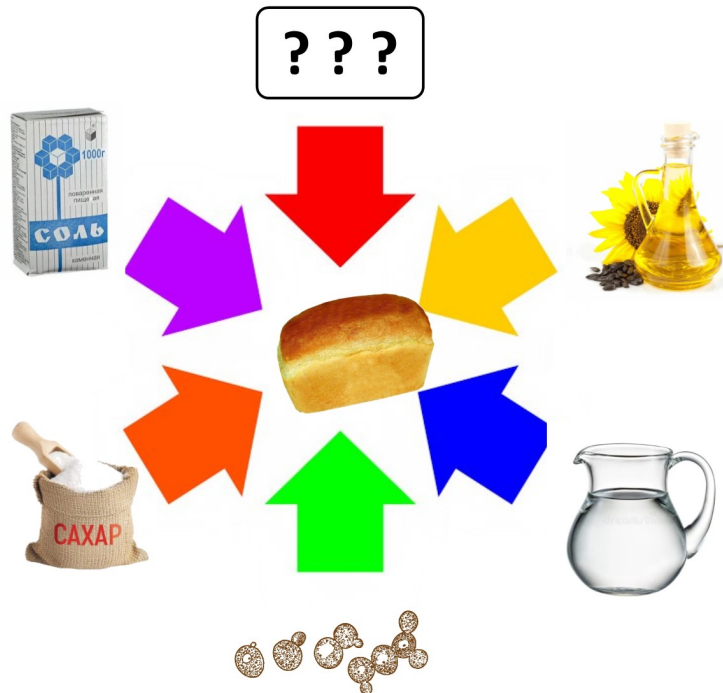
1. Доплясались, что без хлеба остались.
2. Человек хлебом живет, а не промыслом.
3. Без хлеба — половина обеда.
4. Хлеб — всему голова.
5. Хлеб — батюшка, вода — матушка.
6. Хлеб да вода — молодецкая еда.
7. У кого хлеб рождается, тот всегда веселится.
8. Хлеб вскормит, вода вспоит.

Вставьте соответствующие цифры в таблицу.



А.	Б.	В.	Г.

7. На представленной схеме рецепта не хватает одного объекта. Какой объект необходимо вставить вместо картинки с вопросами? Впишите это слово в таблицу.



Слово

8. Хорошие хозяйки при изготовлении хлеба укутывают тесто, для чего они это делают? Выберите правильное утверждение

1. Для развития дрожжей: им нужно тепло.
2. Прячут от мух и ос.
3. При более высокой температуре в тесте разрушаются вредные вещества.
4. Чтобы не попали вредные микробы.
5. Чтобы тесто не скисло.

Правильное утверждение.

9. Перед вами на картинках представлена различная сельскохозяйственная техника для выращивания зерновых и прочих культур. Соотнесите названия этой техники с ее образцами.

Ответы вставьте в таблицу.

1. Борона
2. Дождевальная машина.
3. Жатка
4. Культиватор
5. Плуг
6. Сеялка




А.



Б.



В.



Г.



Д.



Е.

Борона	Дождевальная машина	Жатка	Культиватор	Плуг	Сеялка
<input type="text"/>	<input type="text"/>	<input type="text"/>	<input type="text"/>	<input type="text"/>	<input type="text"/>

10. В состав хлеба входит много различных органических и минеральных веществ. Какого вещества больше всего в хлебе?

1. Белки
2. Витамины
3. Вода
4. Жиры
5. Минеральные соли
6. Углеводы

ответ

**Ответы и критерии определения победителей, призеров и участников
к заданиям для начальной школы**

№п/п	Условия	Ответ	Баллы
1.	Из чего состоит вода	Б, Г	За каждый правильный ответ - 1 балл Максимальный балл - 2
2.	Убрать лишнее Вписать корень слова, объединяющий остальные	Е Аква	За каждый правильный ответ Е - 1 балл, За корень аква – 1 балл Максимальный балл - 2
3.	Выбрать животных, использующих поверхностное натяжение воды	Б, Д, Е	За каждый правильный ответ - 1 балл Максимальный балл – 3
4.	Соответствие пословиц и картинок	А-2 Б-8 В-4 Г-10 Д-3	За каждый правильный ответ - 1 балл Максимальный балл - 5
5.	Распределить водоемы: искусственные, естественные и пресные-соленые	А- 1,2,4,7,9,10 Б -3,5,6,8 В- 1,4,5,8	За каждый правильный ответ - 1 балл Максимальный балл - 3
6.	Определить соответствие пословиц и картинок	А-4 Б-7 В-3 Г-5	За каждый правильный ответ - 1 балл Максимальный балл - 4
7.	Вставить слово	Мука	2 балла
8.	Выбрать правильный ответ	1	2 балла
9.	Определить соответствие названия с\х техники и фото	А-1 Б-2 В-6 Г-4 Д-5 Е-3	За каждый правильный ответ - 1 балл Максимальный балл - 6
10.	Какого вещества больше всего в хлебе	б	2 балла
	Максимальный балл		32

Критерии определения победителей, призеров, участников:

Победитель: 32-28 баллов

Призер: 27-17 баллов

Участник: 16 баллов и меньше.